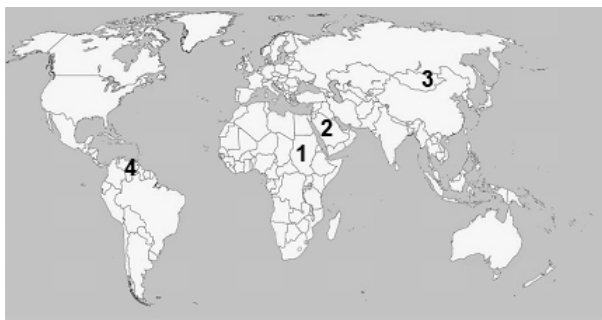


**Proves d'accés a cicles formatius de grau mitjà de formació professional inicial,
d'ensenyaments d'arts plàstiques i disseny, i d'ensenyaments esportius 2021**

Competència social i ciutadana

Sèrie 1

1. Observeu el planisferi polític i relacioneu els números que hi apareixen amb els noms dels països proposats al costat. Escriviu el número corresponent dins les caselles.
[1 punt: 0,25 punts per cada resposta correcta]



| | |
|--|----------------|
| | Sudan |
| | Mongòlia |
| | Aràbia Saudita |
| | Veneçuela |

2. Observeu el mapa polític d'Europa i relacioneu els números que hi apareixen amb els noms de capitals europees proposats al costat. Escriviu el número corresponent dins les caselles.
[1 punt: 0,25 punts per cada resposta correcta]



| | |
|--|----------|
| | Paris |
| | Oslo |
| | Dublín |
| | Varsòvia |

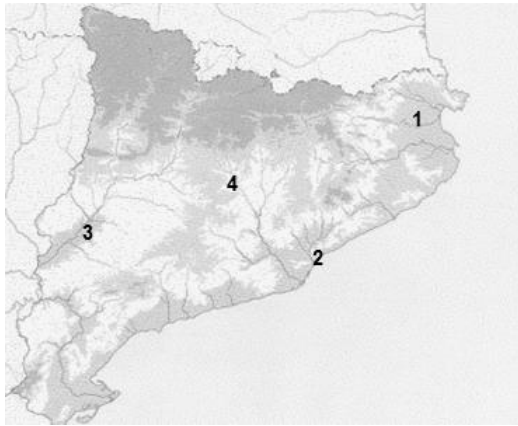
3. Observeu el mapa físic d'Espanya i relacioneu els números que hi apareixen amb els noms de les serralades proposats al costat. Escriviu el número corresponent dins les caselles.
[1 punt: 0,25 punts per cada resposta correcta]



| | |
|--|---------------------|
| | Serralada Ibèrica |
| | Muntanyes de Lleó |
| | Sistema Bètic |
| | Serra de Tramuntana |

4. Observeu el mapa físic de Catalunya i relacioneu els números que hi apareixen amb els noms dels rius proposats al costat. Escriviu el número corresponent dins les caselles.

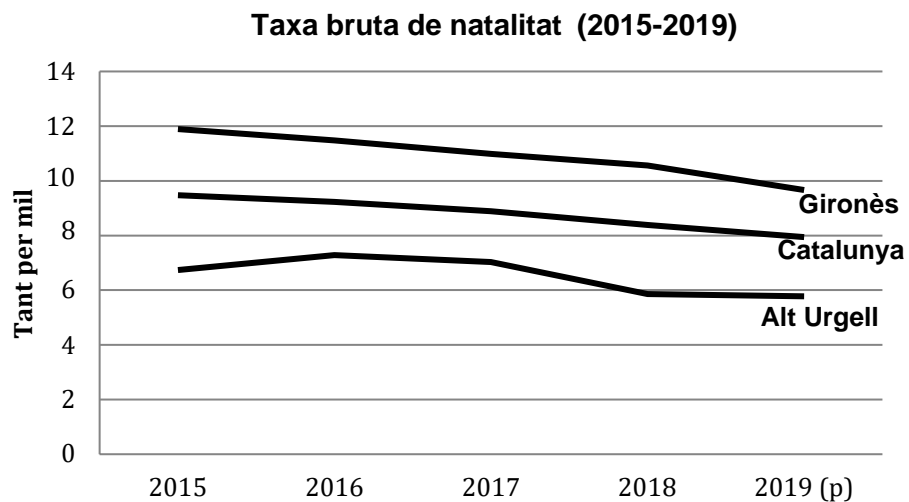
[1 punt: 0,25 punts per cada resposta correcta]



| | |
|--|--------------|
| | Riu Segre |
| | Riu Cardener |
| | Riu Fluvià |
| | Riu Besòs |

5. Estudieu la informació del gràfic següent, referent a la taxa de natalitat a Catalunya, a la comarca del Gironès i a la comarca de l'Alt Urgell, i indiqueu si les frases següents són vertaderes (V) o falses (F). Escriviu la lletra V o F dins les caselles.

[1 punt: 0,25 punts per cada resposta correcta]



| | |
|--|--|
| | Des del 2015 fins al 2019 la taxa de natalitat s'ha reduït a Catalunya. |
| | A la comarca del Gironès la taxa de natalitat és més baixa que a l'Alt Urgell. |
| | La taxa de natalitat de l'Alt Urgell el 2019 està per sota del 6 per mil. |
| | L'alta natalitat combinada amb l'augment de l'esperança de vida provoca un envelliment de la població. |

6. Relacioneu els fets històrics següents amb la data en la qual es van produir. Escriviu la lletra corresponent (A, B, C i D) dins les caselles.

[1 punt: 0,25 punts per cada resposta correcta]

- A) La Revolució Francesa.
- B) La Conferència de Berlín celebrada arran de la colonització del continent africà.
- C) L'inici de la Primera Guerra Mundial.
- D) La crisi dels míssils a Cuba.

1885

1914

1962

1789

7. Relacioneu les imatges següents de la Revolució Industrial amb el període corresponent. Escriviu la lletra corresponent (A o B) dins les caselles.

[1 punt: 0,25 punts per cada resposta correcta]

A) Primera etapa de la Revolució Industrial

B) Segona Revolució Industrial

| | | | |
|--|--|---|--|
|  |  |  |  |
| <input type="text"/> | <input type="text"/> | <input type="text"/> | <input type="text"/> |

8. Indiqueu si les frases següents, referents a la Segona República Espanyola, són vertaderes (V) o falses (F). Escriviu la lletra V o F dins les caselles.

[1 punt: 0,25 punts per cada resposta correcta]

| | |
|--|--|
| | Miguel Primo de Rivera va ser president de la Segona República. |
| | Les dones van poder votar a Espanya per primera vegada durant la Segona República. |
| | La República es va proclamar després d'un cop d'estat militar l'abril del 1931. |
| | La Constitució republicana va establir la separació de l'Església catòlica de l'Estat. |

9. Completeu les frases següents, que fan referència a l'estructura política i territorial de Catalunya, fent servir les expressions següents:

[1 punt: 0,25 punts per cada resposta correcta]

el Parlament de Catalunya, la comarca, l'Estatut d'autonomia, el president de la Generalitat.

- La institució que té la funció legislativa i la funció d'aprovar els pressupostos de la Generalitat és _____.
- El responsable del Consell Executiu i d'establir les directrius generals de l'acció de govern és _____.
- El document que és la norma bàsica legal a Catalunya és _____.
- L'entitat local de caràcter territorial formada per l'agrupació de municipis és _____.

10. Completeu les frases següents marcant amb una creu la data o l'expressió apropiada.
[1 punt: 0,25 punts per cada resposta correcta]

La Declaració dels Drets de l'Home i del Ciutadà es va aprovar l'any:

1915

1948

2010

L'organisme internacional que promociona i defensa els drets humans és:

OTAN

ONU

FMI

Les organitzacions que es dediquen a tasques solidàries i no tenen ànim de lucre són:

ONG

Hòldings

Paradisos fiscals

Un indicador socioeconòmic que incorpora aspectes econòmics i socials és:

Nivell
d'escolarització

Producte interior
brut (PIB)

Índex de desenvolupament
humà (IDH)

