

**Proves d'accés a cicles formatius de grau mitjà de formació professional inicial,  
d'ensenyaments d'arts plàstiques i disseny, i d'ensenyaments esportius 2021**

## **Competència social i ciutadana**

### **Sèrie 1**

**SOLUCIONS,**

**CRITERIS DE PUNTUACIÓ**

**I CORRECCIÓ**

1. Observeu el planisferi polític i relacioneu els números que hi apareixen amb els noms dels països proposats al costat. Escriviu el número corresponent dins les caselles.  
[1 punt: 0,25 punts per cada resposta correcta]



1	Sudan
3	Mongòlia
2	Aràbia Saudita
4	Veneçuela

2. Observeu el mapa polític d'Europa i relacioneu els números que hi apareixen amb els noms de capitals europees proposats al costat. Escriviu el número corresponent dins les caselles.

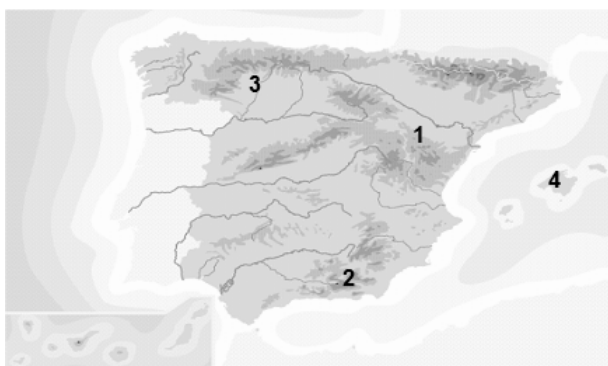
[1 punt: 0,25 punts per cada resposta correcta]



4	Paris
3	Oslo
2	Dublín
1	Varsòvia

3. Observeu el mapa físic d'Espanya i relacioneu els números que hi apareixen amb els noms de les serralades proposats al costat. Escriviu el número corresponent dins les caselles.

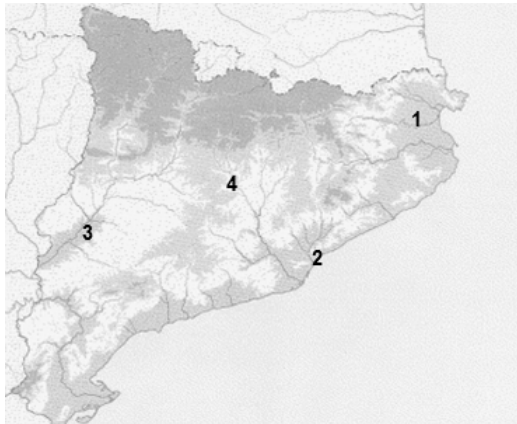
[1 punt: 0,25 punts per cada resposta correcta]



1	Serralada Ibèrica
3	Muntanyes de Lleó
2	Sistema Bètic
4	Serra de Tramuntana

4. Observeu el mapa físic de Catalunya i relacioneu els números que hi apareixen amb els noms dels rius proposats al costat. Escriviu el número corresponent dins les caselles.

[1 punt: 0,25 punts per cada resposta correcta]

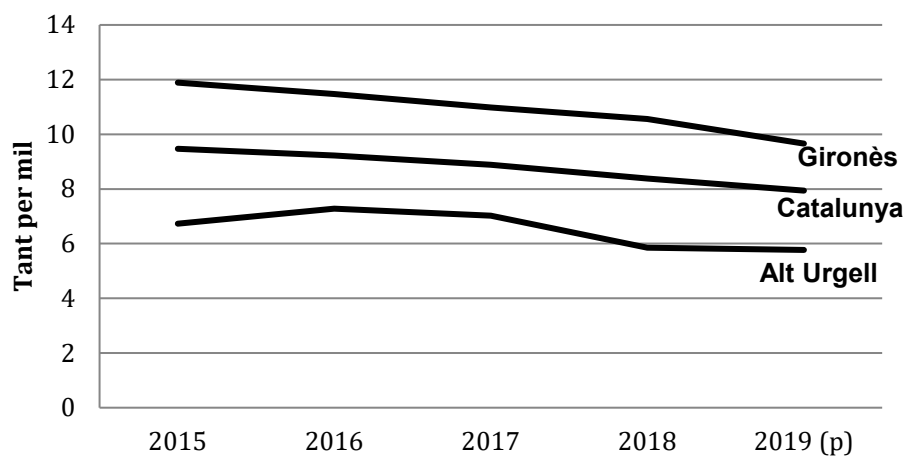


<b>3</b>	Riu Segre
<b>4</b>	Riu Cardener
<b>1</b>	Riu Fluvià
<b>2</b>	Riu Besòs

5. Estudieu la informació del gràfic següent, referent a la taxa de natalitat a Catalunya, a la comarca del Gironès i a la comarca de l'Alt Urgell, i indiqueu si les frases següents són vertaderes (V) o falses (F). Escriviu la lletra V o F dins les caselles.

[1 punt: 0,25 punts per cada resposta correcta]

**Taxa bruta de natalitat (2015-2019)**



<b>V</b>	Des del 2015 fins al 2019 la taxa de natalitat s'ha reduït a Catalunya.
<b>F</b>	A la comarca del Gironès la taxa de natalitat és més baixa que a l'Alt Urgell.
<b>V</b>	La taxa de natalitat de l'Alt Urgell el 2019 està per sota del 6 per mil.
<b>F</b>	L'alta natalitat combinada amb l'augment de l'esperança de vida provoca un envelliment de la població.

6. Relacioneu els fets històrics següents amb la data en la qual es van produir. Escriviu la lletra corresponent (A, B, C i D) dins les caselles.

[1 punt: 0,25 punts per cada resposta correcta]





- A) La Revolució Francesa.
- B) La Conferència de Berlín celebrada arran de la colonització del continent africà.
- C) L'inici de la Primera Guerra Mundial.
- D) La crisi dels míssils a Cuba.

**B** 1885     
 **C** 1914     
 **D** 1962     
 **A** 1789

7. Relacioneu les imatges següents de la Revolució Industrial amb el període corresponent. Escriviu la lletra corresponent (A o B) dins les caselles.

[1 punt: 0,25 punts per cada resposta correcta]

- A) Primera etapa de la Revolució Industrial      B) Segona Revolució Industrial

			
<b>A</b>	<b>B</b>	<b>B</b>	<b>B</b>

8. Indiqueu si les frases següents, referents a la Segona República Espanyola, són vertaderes (V) o falses (F). Escriviu la lletra V o F dins les caselles.

[1 punt: 0,25 punts per cada resposta correcta]

<b>F</b>	Miguel Primo de Rivera va ser president de la Segona República.
<b>V</b>	Les dones van poder votar a Espanya per primera vegada durant la Segona República.
<b>F</b>	La República es va proclamar després d'un cop d'estat militar l'abril del 1931.
<b>V</b>	La Constitució republicana va establir la separació de l'Església catòlica de l'Estat.

9. Completeu les frases següents, que fan referència a l'estructura política i territorial de Catalunya, fent servir les expressions següents: *el Parlament de Catalunya*, *la comarca*, *l'Estatut d'autonomia*, *el president de la Generalitat*.

[1 punt: 0,25 punts per cada resposta correcta]

- La institució que té la funció legislativa i la funció d'aprovar els pressupostos de la Generalitat és **el Parlament de Catalunya**.
- El responsable del Consell Executiu i d'establir les directrius generals de l'acció de govern és **el president de la Generalitat**.
- El document que és la norma bàsica legal a Catalunya és **l'Estatut d'autonomia**.
- L'entitat local de caràcter territorial formada per l'agrupació de municipis és **la comarca**.

10. Completeu les frases següents marcant amb una creu la data o l'expressió apropiada.  
[1 punt: 0,25 punts per cada resposta correcta]

La Declaració dels Drets de l'Home i del Ciutadà es va aprovar l'any:

1915

1948

2010

L'organisme internacional que promociona i defensa els drets humans és:

OTAN

ONU

FMI

Les organitzacions que es dediquen a tasques solidàries i no tenen ànim de lucre són:

ONG

Hòldings

Paradisos fiscals

Un indicador socioeconòmic que incorpora aspectes econòmics i socials és:

Nivell  
d'escolarització

Producte interior  
brut (PIB)

Índex de desenvolupament  
humà (IDH)

