



**Proves d'accés a cicles formatius de grau mitjà de formació professional inicial,
d'ensenyaments d'arts plàstiques i disseny, i d'ensenyaments esportius 2022**

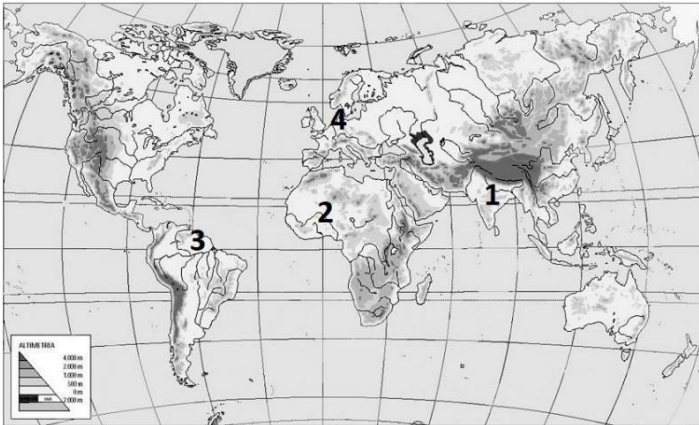
Competència social i ciutadana

Sèrie 1

INSTRUCCIONS

- La prova consta de 10 qüestions que valen 1 punt cadascuna.
- Les qüestions d'elecció múltiple tenen només una resposta correcta.
- Pels errors en les qüestions d'elecció múltiple no es descomptaran punts.

1. Observeu el planisferi físic i relacioneu els números que hi apareixen amb els noms dels rius proposats al costat. Escriviu el número corresponent dins les caselles.
 [1 punt: 0,25 punts per cada resposta correcta]



	Riu Amazones
	Riu Ganges
	Riu Níger
	Riu Rin

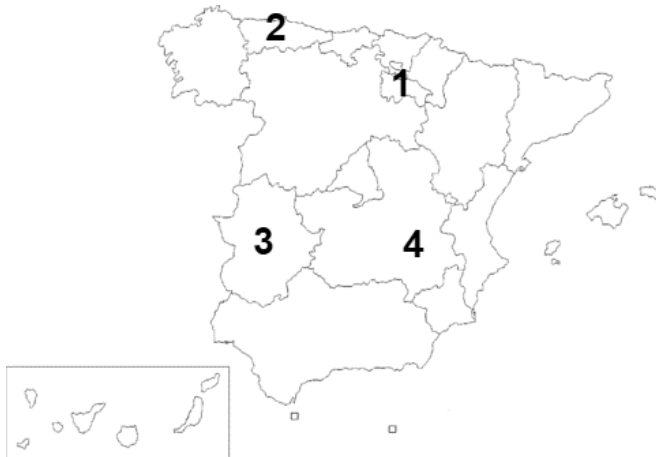
2. Observeu el mapa polític d'Europa i relacioneu els números que hi apareixen amb els noms dels països proposats al costat. Escriviu el número corresponent dins les caselles.
 [1 punt: 0,25 punts per cada resposta correcta]



	Finlàndia
	Bulgària
	Eslovènia
	Irlanda

3. Observeu el mapa polític d'Espanya i relacioneu els números que hi apareixen amb els noms de les comunitats autònomes proposats al costat. Escriviu el número corresponent dins les caselles.

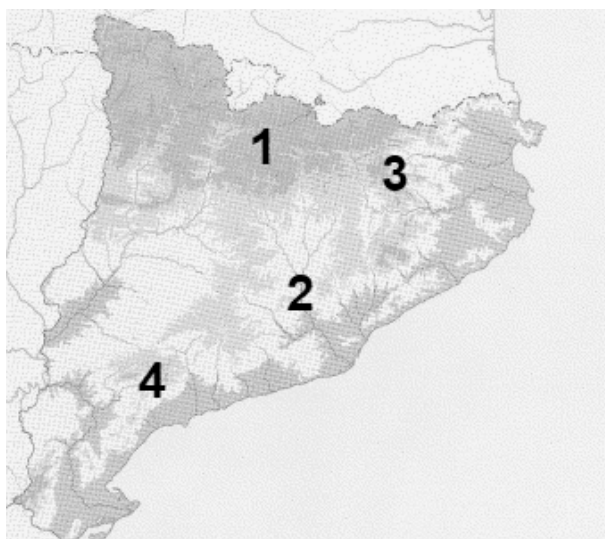
[1 punt: 0,25 punts per cada resposta correcta]



	Castella-la Mancha
	La Rioja
	Extremadura
	Astúries

4. Observeu el mapa físic de Catalunya i relacioneu els números que hi apareixen amb els noms de les unitats de relleu proposats al costat. Escriviu el número corresponent dins les caselles.

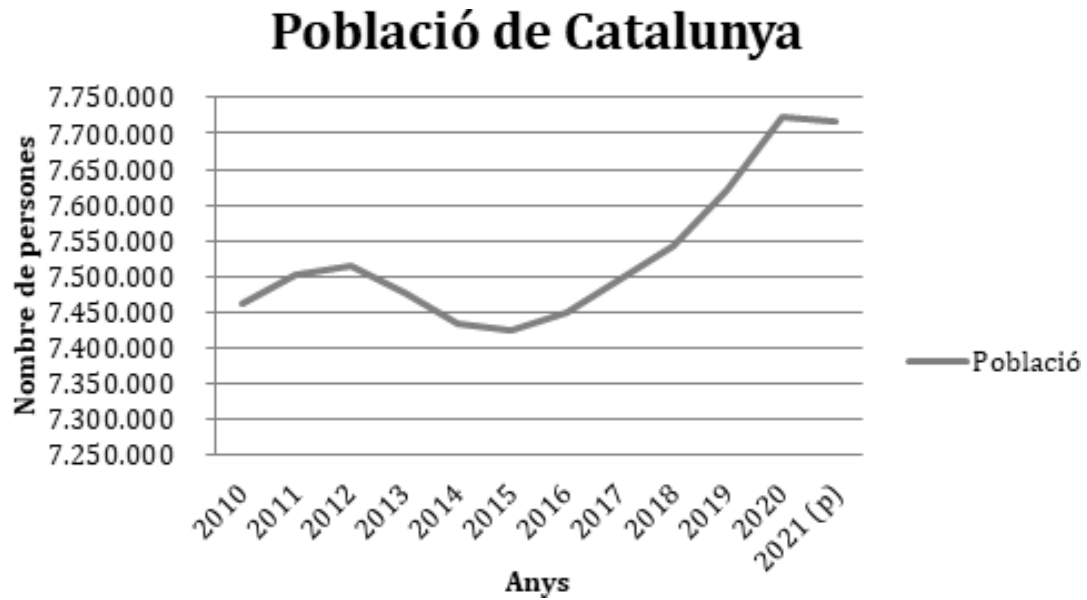
[1 punt: 0,25 punts per cada resposta correcta]



	Montserrat
	Serralada Transversal
	Montsant
	Serra del Cadí

5. Estudieu la informació del gràfic de línies següent, referent a l'evolució de la població de Catalunya, i indiqueu si les frases següents són vertaderes (V) o falses (F). Escriu la lletra V o F dins les caselles.

[1 punt: 0,25 punts per cada resposta correcta]



	La població de Catalunya s'ha reduït en els darrers 10 anys.
	Catalunya té més de 7.500.000 de persones des de l'any 2010.
	A Catalunya l'any 2020 es van superar els 7.700.000 de persones.
	Entre els anys 2020 i 2021 la població de Catalunya va deixar de créixer.

6. Indiqueu si les següents característiques pertanyen al període de l'Antic Règim o al període del Nou Règim. Escriviu la lletra corresponent (A o B) dins les caselles.
[1 punt: 0,25 punts per cada resposta correcta]

A) Període d'Antic Règim

B) Període de Nou Règim

	Societat estamental.
	Economia basada en l'agricultura i la ramaderia.
	Monarquia absolutista.
	Societat dividida en classes socials.

7. Indiqueu si les frases següents, referents a la Revolució Francesa, són vertaderes (V) o falses (F). Escriviu la lletra V o F dins les caselles.
[1 punt: 0,25 punts per cada resposta correcta]

	Robespierre va lluitar en contra de la Revolució Francesa.
	Napoleó Bonaparte va restablir l'absolutisme monàrquic.
	El rei Lluís XVI i la reina Maria Antonieta van morir guillotins.
	L'Assemblea Nacional Constituent va promulgar la Declaració de Drets de l'Home i del Ciutadà.

8. Relacioneu els fets històrics de la Guerra Civil Espanyola següents amb la data en la qual es van produir. Escriviu la lletra corresponent (A, B, C o D) dins les caselles.
[1 punt: 0,25 punts per cada resposta correcta]

- A) Bombardeig sobre la ciutat de Guernica.
- B) Inici de la Batalla de l'Ebre.
- C) Insurrecció militar que va ser l'inici de la Guerra Civil.
- D) Ocupació de Barcelona per part de les tropes franquistes.

	25 de juliol de 1938
	26 d'abril de 1937

	26 de gener de 1939
	17 de juliol de 1936

9. Relacioneu les imatges amb el període corresponent. Escriviu la lletra corresponent (A o B) dins les caselles.
[1 punt: 0,25 punts per cada resposta correcta]

- A) Franquisme
- B) Democràcia

10. Indiqueu si les frases següents, referents a la Unió Europea, són vertaderes (V) o falses (F). Escriviu la lletra V o F dins les caselles.
[1 punt: 0,25 punts per cada resposta correcta]

	Tots els països de la Unió Europea utilitzen com a moneda l'euro.
	Noruega és el país més gran de la Unió Europea.
	Els ciutadans dels països de la Unió Europea escullen als eurodiputats cada 4 anys.
	El terme Brexit fa referència a la sortida del Regne Unit de la Unió Europea.