



Competència social i ciutadana

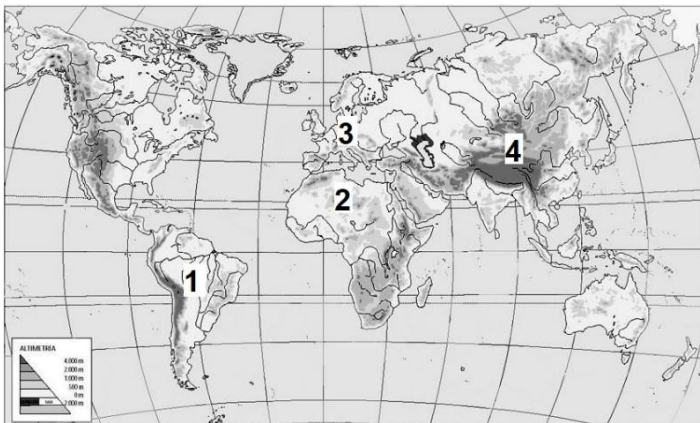
Sèrie 1

INSTRUCCIONS

- La prova consta de 10 qüestions que valen 1 punt cadascuna.
- Les qüestions d'elecció múltiple tenen només una resposta correcta.
- Pels errors en les qüestions d'elecció múltiple no es descomptaran punts.

1. Observeu el següent planisferi i relacioneu els números que hi apareixen amb els noms de les unitats de relleu proposades al costat. Escriviu el número corresponent dins les caselles.

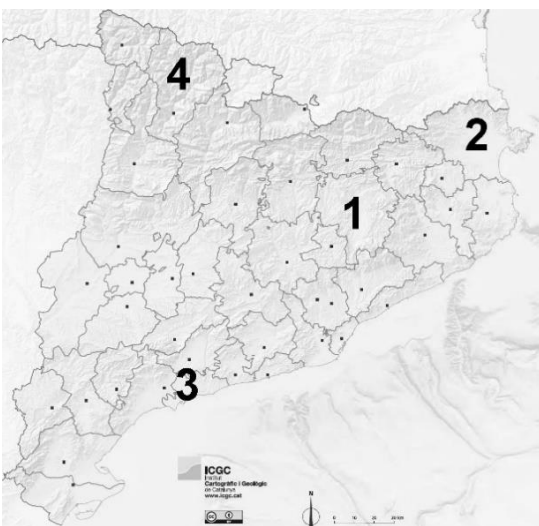
[1 punt: 0,25 punts per cada resposta correcta]



| | |
|--|----------|
| | Himàlaia |
| | Sàhara |
| | Andes |
| | Alps |

2. Observeu el mapa polític de Catalunya i relacioneu els números que hi apareixen amb els noms de les comarques proposats al costat. Escriviu el número corresponent dins les caselles.

[1 punt: 0,25 punts per cada resposta correcta]



| | |
|--|----------------|
| | Alt Empordà |
| | Osona |
| | Tarragonès |
| | Pallars Sobirà |

3. Identifiqueu si els següents recursos naturals són renovables o no. Escriviu la lletra corresponent (A o B) dins les caselles.

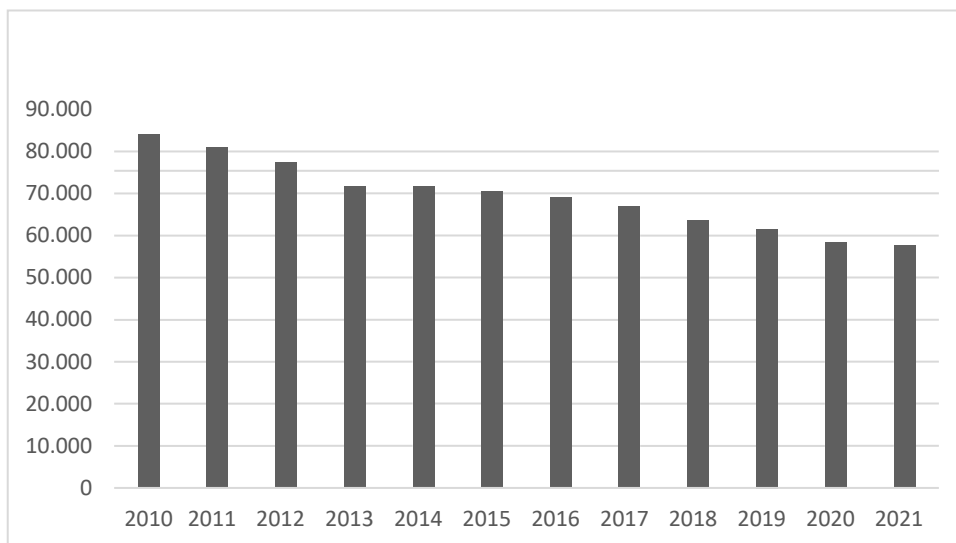
[1 punt: 0,25 punts per cada resposta correcta]

- A) Renewable
- B) No renovable

| | |
|--|--------------------|
| | Energia solar |
| | Energia eòlica |
| | Energia nuclear |
| | Energia hidràulica |

4. Estudieu la informació del gràfic de línies següent, referent a l'evolució del nombre de naixements de Catalunya, i indiqueu si les frases següents són vertaderes (V) o falses (F). Escriviu la lletra V o F dins les caselles.

[1 punt: 0,25 punts per cada resposta correcta]



| | |
|--|---|
| | El nombre de naixements es manté per sobre dels 60.000 fins el 2019. |
| | El nombre de naixements s'ha reduït a la meitat els darrers deu anys. |
| | L'any 2014 el nombre de naixements no supera els 70.000. |
| | La natalitat té una tendència a disminuir els darrers sis anys. |

5. Identifiqueu quines innovacions pertanyen a la primera Revolució industrial i quines a la segona Revolució industrial. Escriviu la lletra corresponent (A o B) dins les caselles.

[1 punt: 0,25 punts per cada resposta correcta]

- A) Primera Revolució industrial
B) Segona Revolució industrial

| | |
|--|-------------------|
| | Màquina de vapor |
| | Electricitat |
| | Treball en cadena |
| | Ferrocarril |

6. Ordeneu de més antic (1) a més recent (4), els següents esdeveniments de la Guerra Civil Espanyola. Escriviu el número corresponent (1, 2, 3 o 4) a dins les caselles.

[1 punt: 0,25 punts per cada apartat]

| | |
|--|------------------------|
| | Batalla de l'Ebre. |
| | Intent de cop d'estat. |

| | |
|--|------------------------|
| | Bombardeig de Gernica. |
| | Ocupació de Barcelona. |

7. Relacioneu els següents fets històrics amb la data de la seva realització. Escriviu la lletra corresponent (A, B, C o D) dins les caselles.

[1 punt: 0,25 punts per cada resposta correcta]

- A) 2 de setembre de 1945 B) 24 d'octubre de 1945
 C) 10 de desembre de 1948 D) 25 de març de 1957

| | |
|--|---|
| | Creació de les Nacions Unides (ONU). |
| | Fi de la Segona Guerra Mundial. |
| | Creació de la Comunitat Econòmica Europea (CEE). |
| | Proclamació de la Declaració Universal dels Drets Humans. |

8. Relacioneu les següents institucions de la Unió Europea amb el poder que exerceixen. Escriviu la lletra corresponent (A, B o C) dins les caselles.

[1 punt: 0,25 punts per cada resposta correcta]

- A) Poder legislatiu
 B) Poder executiu
 C) Poder judicial

| | |
|--|---|
| | Parlament Europeu |
| | Comissió Europea |
| | Consell de la Unió Europea |
| | Tribunal de Justícia de la Unió Europea |

9. Indiqueu si les frases següents, referents al concepte de democràcia, són vertaderes (V) o falses (F). Escriviu les lletres V o F dins les caselles.

[1 punt: 0,25 punts per cada resposta correcta]

| | |
|--|---|
| | El poder ha d'estar concentrat en una sola persona. |
| | El poble escull els seus representants polítics. |
| | El vot és lliure i secret. |
| | Les manifestacions al carrer estan prohibides. |

10. Relacioneu els següents personatges amb els esdeveniments històrics proposats a sota. Escriviu la lletra corresponent (A, B, C o D) dins les caselles.

[1 punt: 0,25 punts per cada resposta correcta]

- A) Adolf Hitler (1889-1945)
 B) Vladimir Lenin (1870-1924)
 C) Nelson Mandela (1918-2013)
 D) Mahatma Gandhi (1969-1948)

| | |
|--|-----------------------------------|
| | Independència de l'Índia |
| | Segona Guerra Mundial |
| | Revolució Russa. |
| | Lluita contra l' <i>apartheid</i> |

